


KDO SE BOJÍ



NE SMÍ DO MĚSTA

MOJE MÍSTO, MOJE MĚSTO

Zamysli se nad tím, jestli máš nějaké oblíbené místo, kde rád/a trávíš čas. Místo můžeš nakreslit nebo popsat, jak vypadá.



Čím je tvé místo speciální?
Proč myslíš, že ho máš radši než jiná místa?

Jak by se dalo tvoje oblíbené místo vylepšit?
Co ti na tvém oblíbeném místě chybí?

Vzpomeň si na nějaké místo, které ti připadá ošklivé nebo nebezpečné.
Co by se muselo změnit, aby se z něj stalo příjemné místo?

K ZAMYŠLENÍ

Podívej se na mapu svého města. Zkus si na ní označit místa, kde se cítíš dobře, a místa, která se ti nelíbí. Taky si můžeš vyznačit, kudy se po městě pohybuješ.

ULICE — NÁMĚSTÍ

Jak vypadá ulice a jak náměstí? Nakresli jejich tvary.

Poté vyznač barevnými čarami, jak se na náměstí a na ulici pohybují lidé.

Jak se bude například pohybovat cyklista, jak starší osoba s nákupem,

jak školní družina a jak pošťák? Budou se směry pohybu nějak lišit?

--	--

Náměstí ve městě má sloužit lidem jako místo pro setkávání a sdružování.

Jaké znáš ve tvém městě náměstí? Jak to tam vypadá? K čemu tohle náměstí nejčastěji slouží?

Kratší ulice mají často po celé své délce stejný účel. Naopak dlouhé ulice se mnohdy postupně mění.

Hlavně ty v centru města. Která ulice je ve tvém městě nejdelší? Co všechno na ni můžeme najít?

ZAHRAJTE SI HRU

Vystříhni proužek papíru. Do prvního políčka nakresli jedno slovo z nabídky.

Pak ho škrtni, přelož papírek a pošli jej dalšímu hráči. Až vyškrtáte všechny možnosti, rozložte papírek a popište vzniklou ulici. Jak by se v ní asi žilo?


NABÍDKA: OBYTNÉ DOMY, SPORTOVNÍ AREÁL, PARK, TOVÁRNA, OBCHOD, NÁDRAŽÍ

ROSTLINY VE MĚSTĚ

Jaké znáš přírodní prvky ve veřejném prostoru?
Kde kromě parku můžeme najít ve městě rostliny? Dokresli.

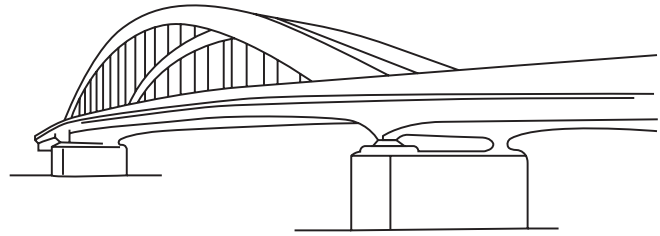
Rostliny pomáhají ochlazovat a prokysličovat město.
Zároveň drží vlhkost v půdě a brání tak erozi. Co naopak město otepluje?

Ne všechny parky jsou příjemným místem k trávení volného času.
Jedním z těch méně příjemných jsou Mánesovy sady v Ústí nad Labem.
Vystříhni si z nabídky a dolep do obrázku, čím myslíš, že by se daly sady zpříjemnit.



X1(V)C 20K = 200K(1)K1,
X1(V)C 20K = 200K(1)K1,

ŽIVOT KOLEM ŘEKY



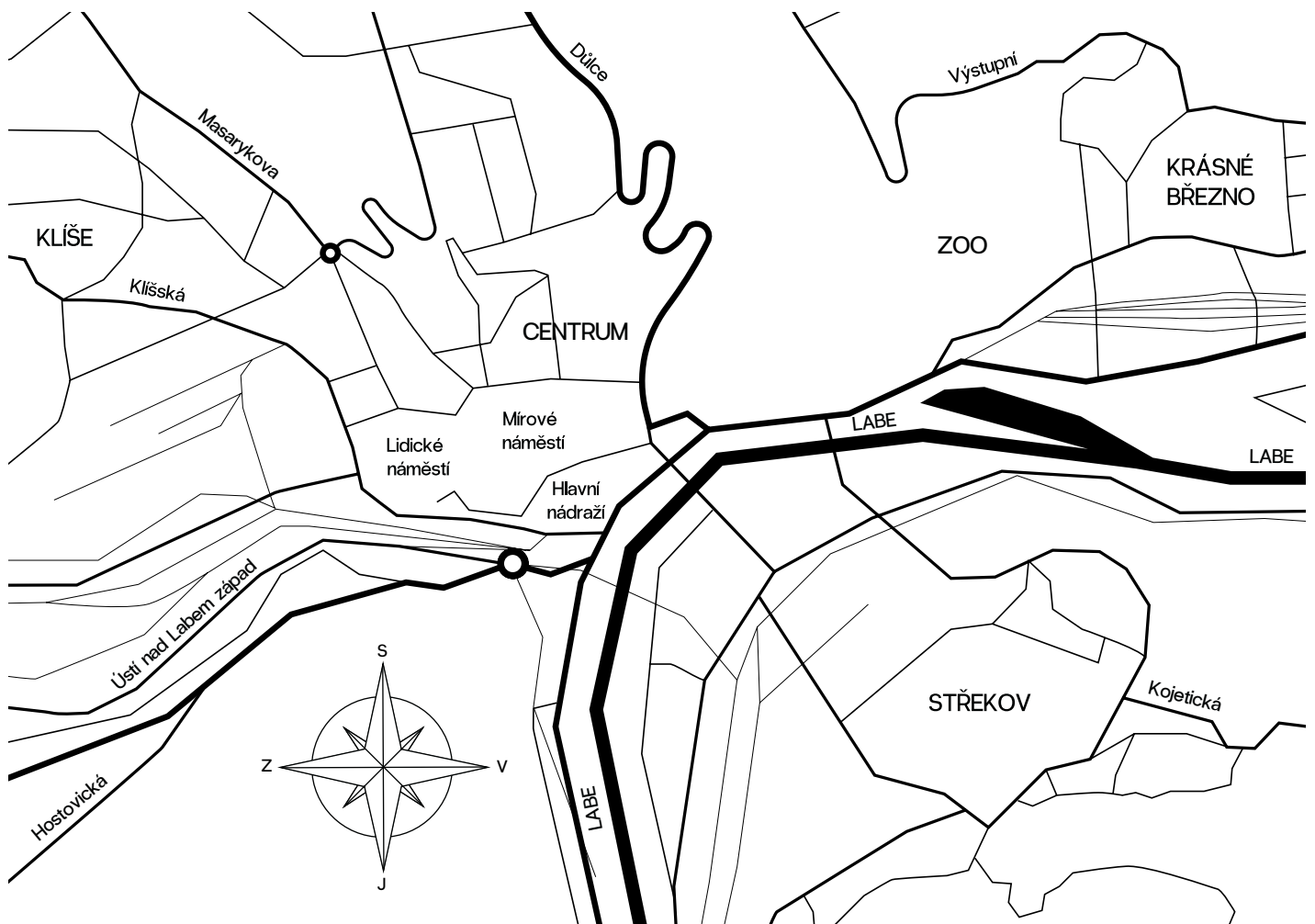
Teče u vás ve městě řeka?

Jak vypadá život na druhé straně? Liší se nějak oba břehy?

Podívej se na mapu.

Jak se město jmenuje? Jaká řeka městem protéká?

Dokážeš doplnit do mapy: Masarykovo zdymadlo, západní přístav, Mariánský most, Železniční most, Most Dr. Edvarda Beneše



Na pravém břehu řeky se nachází městská čtvrť: _____ (doplň)

Jak si představuješ trávení volného času u vody?

Jak by měl vypadat břeh řeky, aby se tam dobře trávil čas? A co na to příroda?

Jak to udělat, aby řeka dobře sloužila zvířatům, rostlinám i člověku a vzájemně si neškodili?


Slyšeli jste už o stavbě kanálu Labe-Odra-Dunaj?

Jaké dopady bude mít na životní prostředí?

Napadají tě rozumnější způsoby, jak utratit 600 miliard korun?

NÁDRAŽÍ

Nádraží je často prvním místem, které v městě navštívíte. Slouží jako uzel spojující různá místa po celém kraji. Jak vypadá život na nádraží, na koho tam můžete narazit? Co se stane, když takové nádraží nemá využití? Umíš si představit, v co jiného by šlo změnit?

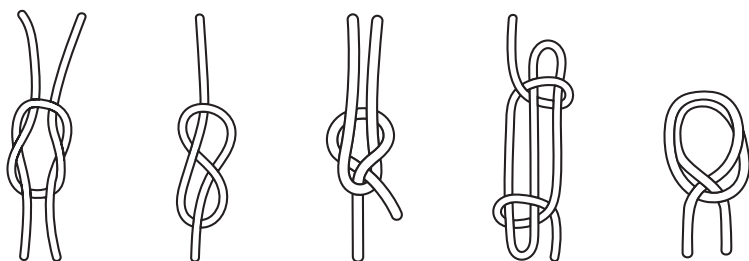


Ústí nad Labem je důležitým uzlem severních Čech. Vedle hlavního nádraží má ještě západní nádraží. V případě stavby vlakového koridoru Praha—Drážďany by se mělo stát novým hlavním nádražím. Je taková změna dobrá?

Jak by se musela proměnit celá oblast a co by to znamenalo pro současné centrum? Jak by podle tebe mohlo nové nádraží po přestavbě vypadat, aby plnilo svůj účel?

Železniční uzel není jediný druh uzlu. Máme autobusové uzly a taky různě vážeme provazy. Znáš tyto základní typy uzlů? Názvy doplň a pak si je zkus cvičně uvázat.

NABÍDKA: OSMIČKA, LODNÍ UZEL, ZKRACOVAČKA, AMBULANTNÍ SMYČKA, ŠKOTOVKA



- 1 _____
- 2 _____
- 3 _____
- 4 _____
- 5 _____